


Time: 10 Minutes	Paper Math 2	Total Marks: 10
-------------------------	---------------------	------------------------

6th Month, 1st Week, 4th Day	Syllabus: Try Yourself. Page # 138
------------------------------	---

Colour the circle red, semi-circle green and quarter circle yellow. Write the total number of each shape. (10)

دائرے میں سرخ، نصف دائرے میں سبز اور کوارٹر دائرے میں پیلا رنگ بھریں اور ان کی تعداد لکھیں۔




Time: 10 Minutes	Paper Math 2	Total Marks: 10
-------------------------	---------------------	------------------------

6th Month, 1st Week, 4th Day	Syllabus: Try Yourself. Page # 138
------------------------------	---

Colour the circle red, semi-circle green and quarter circle yellow. Write the total number of each shape. (10)

دائرے میں سرخ، نصف دائرے میں سبز اور کوارٹر دائرے میں پیلا رنگ بھریں اور ان کی تعداد لکھیں۔




Time: 10 Minutes	Paper Math 2	Total Marks: 10
-------------------------	---------------------	------------------------

6th Month, 1st Week, 4th Day	Syllabus: Try Yourself. Page # 138
------------------------------	---

Colour the circle red, semi-circle green and quarter circle yellow. Write the total number of each shape. (10)

دائرے میں سرخ، نصف دائرے میں سبز اور کوارٹر دائرے میں پیلا رنگ بھریں اور ان کی تعداد لکھیں۔



Time: 10 Minutes	Paper Math 2	Total Marks: 10
-------------------------	---------------------	------------------------

6th Month, 1st Week, 4th Day	Syllabus: Try Yourself. Page # 138
------------------------------	---

Colour the circle red, semi-circle green and quarter circle yellow. Write the total number of each shape. (10)

دائرے میں سرخ، نصف دائرے میں سبز اور کوارٹر دائرے میں پیلا رنگ بھریں اور ان کی تعداد لکھیں۔

